







1. Relie chaque terme à ses caractéristiques.

- | | |
|------------|---|
| Carte ● | ● Représentation 3D de la réalité. |
| Plan ● | ● Contient une légende |
| Maquette ● | ● Contient une échelle |
| | ● Dessin représentant une ville vue du haut |
| | ● Le nord y est indiqué |
| | ● Représentation d'une grande surface |
| | ● Représentation d'une petite surface |

2. Complète le tableau des 5 sens.

	LE SENS	L'ORGANE	L'ACTION
	la vue
	l'oreille
	goûter
	le nez
	toucher