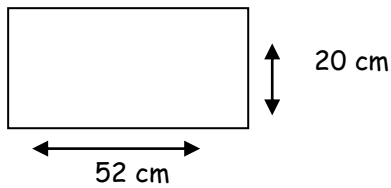


Aire et périmètre

Pour l'aire, rappelle-toi que la réponse doit être exprimée en mesure d'aire : mm² cm² dm² m²

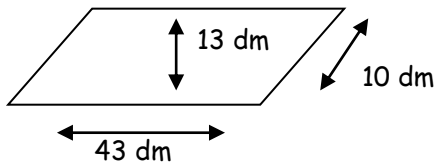
1. Calcule l'aire et le périmètre des formes suivantes. Utilise les mesures données sur le dessin.

Tu peux faire tes calculs sur une feuille quadrillée ou au verso. C'est un bon entraînement pour les multiplications écrites.



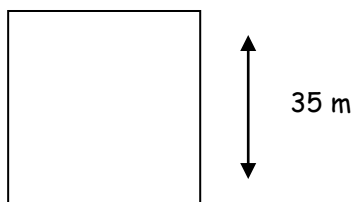
Périmètre du rectangle : _____

Aire du rectangle : _____



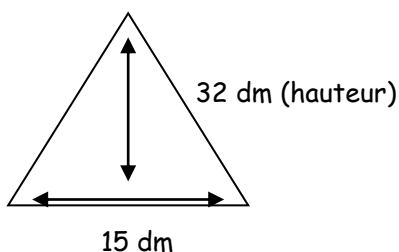
Périmètre du parallélogramme : _____

Aire du parallélogramme : _____



Périmètre du carré : _____

Aire du carré : _____



Périmètre du triangle : _____

Aire du triangle : _____